




ジハンキーのひみつ



たかしくん

- ① 円を入れる
- ② 130円のジュース (ばん) のボタンをおす
- ③ ばんの ジュース をうけとる
- ④ おつりの10円玉を まいうけとる




ジハンキー

- ① 円をうけとって、ボタンのライトをつける
- ② ばんのあいずをうけとる
- ③ 1 ばんの ジュースが 円だとたしかめる
- ④ ばんの ジュース を出す
- ⑤ おつりの10円玉を まい出す

名前：



ジハンキーへの指令のれんしゅう



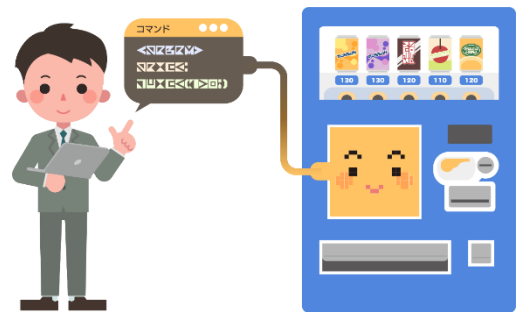
ジハンキーのあたまの中

メモのなまえ
A

メモのなまえ
B

メモのなまえ
C

メモのなまえ
D





おつりの計算のしかたをたしかめよう

1 おつりの計算につかうお金をたしかめよう

① うけとったお金 はいくら？ 円

② ジュースのお金 はいくら？ 円

2 おつりの計算のしかた を たしかめよう

① うけとったお金 を 10円玉にしたとき の数はいくつ？
(200円)

まい

② ジュースのお金 を 10円玉にしたとき の数はいくつ？
(130円)

まい

③ おつりの 10円玉の数はいくつ？

$$\boxed{} - \boxed{} = \boxed{}$$

200円を10円玉
にすると？

130円を10円玉
にすると？

まい





ジハンキーのあたまの中

メモのなまえ

うけとったお金

メモのなまえ

うけとったお金を10円玉にしたとき

メモのなまえ

ジュースのお金

メモのなまえ

ジュースのお金を10円玉にしたとき

メモのなまえ

おつりの10円玉の数



いろいろなおつりの計算をさせてみよう



500円玉をもってきたよ！おつりの10円玉の数はいくつ？



まい



1000円さつ をもってきたよ！おつりの10円玉の数はいくつ？



まい