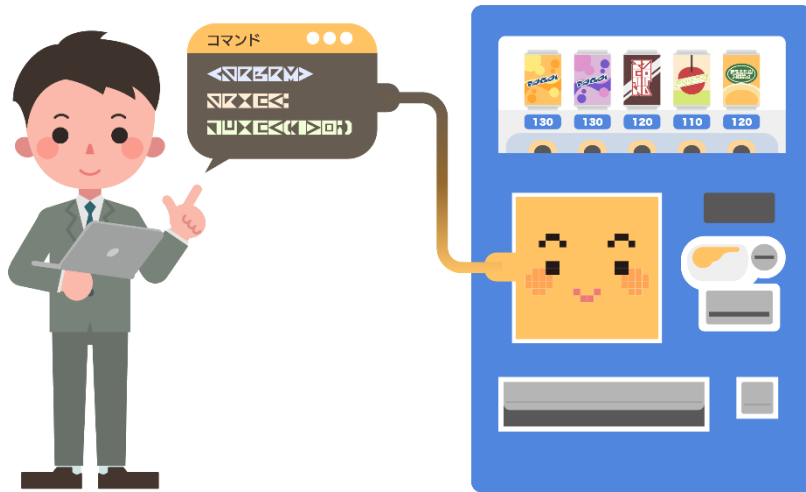




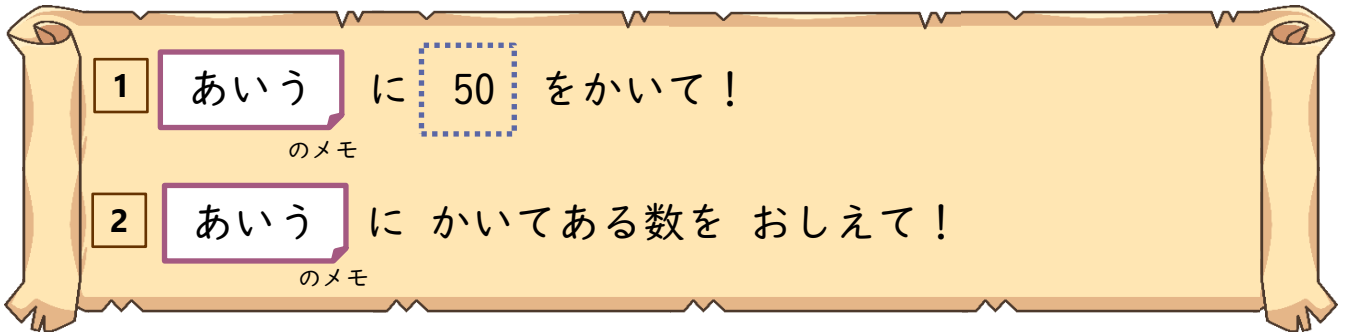
ジハンキーへの
し れい しょ
指令書



名前：



しれい
ジハンキーへの指令のしかた



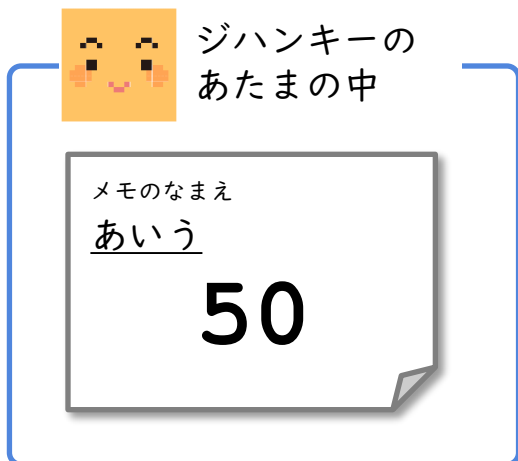


しれい
この指令は、くわしく かくとこうなります

- ① ジハンキーのあたまの中にある あいう というなまえのメモに 50 をかいて！
- ② ジハンキーのあたまの中にある あいう というなまえのメモにかいてある数をおしえて！



しれい
指令をうけとったジハンキーは、こう うごきます





しれい
ジハンキーへの指令のれんしゅう

1 あいう に 50 をかいて！

のメモ

2 あいう にかいてある数をおしえて！

のメモ

3 かきく に $1 + 5$ を計算したこたえ をかいて！

のメモ

4 かきく にかいてある数をおしえて！

のメモ

5 さしす に

のメモ

あいう にかいてある数は10いくつぶんか をかいて！

のメモ

6 さしす にかいてある数をおしえて！

のメモ

7 たちつ に

のメモ

あいう にかいてある数 たす さしす にかいてある数

のメモ

のメモ

を計算したこたえ

をかいて！

8 たちつ にかいてある数をおしえて！

のメモ



ジハンキーへの ^{しれい}指令 おつりの計算①

1 うけとったお金 をかいて！
のメモ

2 うけとったお金 にかいてある数をおしえて！
のメモ

3 ジュースのお金 をかいて！
のメモ

4 ジュースのお金 にかいてある数をおしえて！
のメモ

5 うけとったお金を10円玉にしたとき に
のメモ

にかいてある数は
10いくつぶんか
のメモ

をかいて！

6 うけとったお金を10円玉にしたとき にかいてある数を
のメモ
おしえて！

つぎのページへ



ジハンキーへの ^{しれい}指令 おつりの計算②

7 ジュースのお金を10円玉にしたとき のメモ に

ジュースのお金 のメモ にかいてある数は 10いくつぶんか

を かいて！

8 ジュースのお金を10円玉にしたとき のメモ にかいてある数をおしえて！

9 おつりの10円玉の数 のメモ に

うけとったお金を10円玉にしたとき のメモ にかいてある数ひく

ジュースのお金を10円玉にしたとき のメモ にかいてある数を計算したこたえ

を かいて！

10 おつりの10円玉の数 のメモ にかいてある数をおしえて！



はってん① 計算のしかたを かえてみよう

1 うけとったお金のメモに 200 をかいて！

2 うけとったお金のメモにかいてある数をおしえて！

3 ジュースのお金のメモに 130 をかいて！

4 ジュースのお金のメモにかいてある数をおしえて！

5 おつりの10円玉の数のメモに

おつりの計算をしてから
10円玉の数を計算するように
ブロックをならべかえてみよう！

6 おつりの10円玉の数のメモにかいてある数をおしえて！

わからないときは、
みほんをみてみよう！！





はってん② 計算のしかたを かえてみよう



こんなふうにもできそう？

のこすお金がジュースのお金と
同じになるまで
おつりの10円玉を1まいずつ出す

1 うけとったお金 に 200 をかいて！

のメモ

2 うけとったお金 に かいてある数をおしえて！

のメモ

3 ジュースのお金 に 130 をかいて！

のメモ

4 ジュースのお金 に かいてある数をおしえて！

のメモ

「くりかえし」や「へんすう」を
つかってかんがえてみよう！！

わからないときは、
みほんをみてみよう！！



