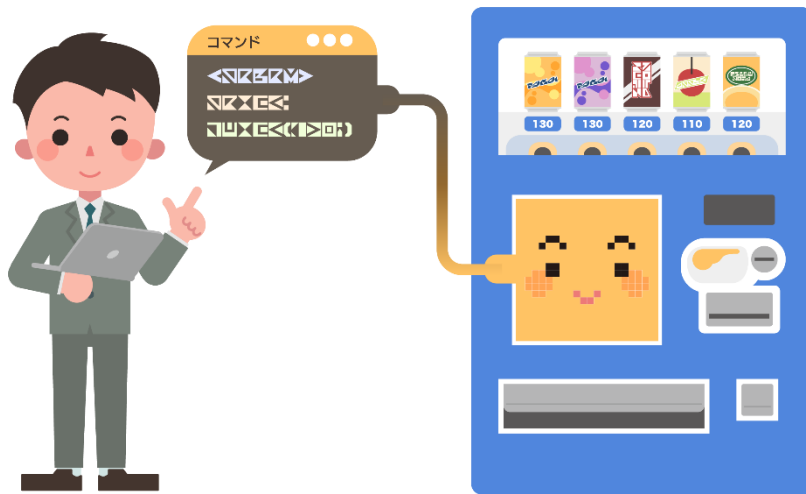




ジハンキーへの  
し れい しょ  
指令書

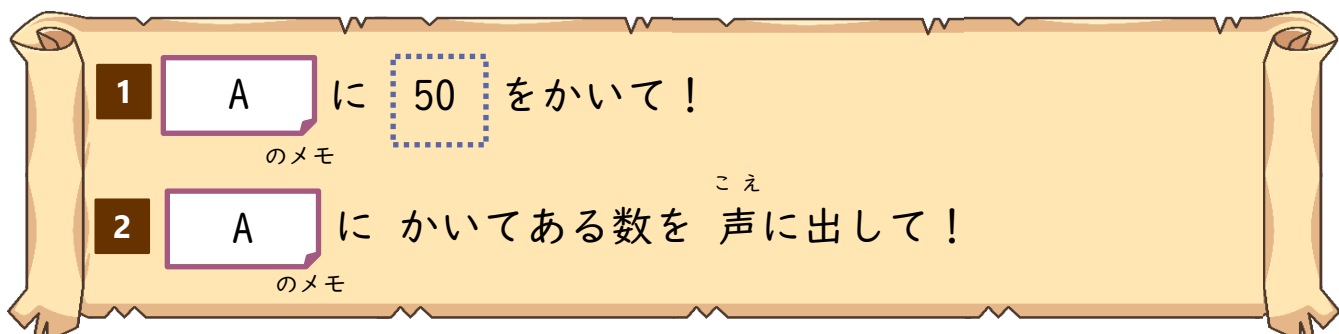


名前：

---



# ジハンキーへの指令の<sup>しれい</sup>だしかた

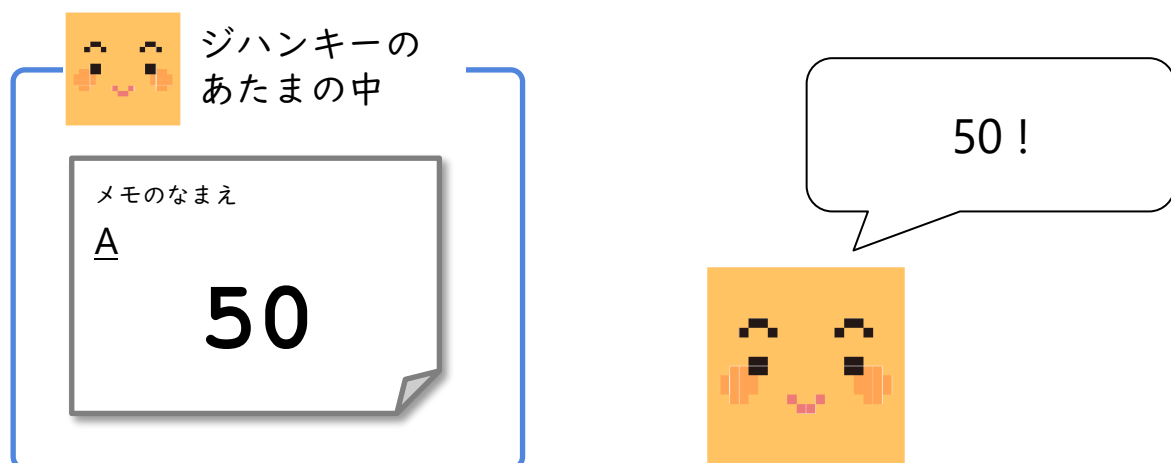


この<sup>しれい</sup>指令は、くわしくかくとこうなります

- ① ジハンキーのあたまの中にある A というなまえのメモに 50 をかいて!
- ② ジハンキーのあたまの中にある A というなまえのメモにかいてある数を 声に出して おしえて!



<sup>しれい</sup>指令をうけとったジハンキーは、こう うごきます





しれい  
ジハンキーへの指令のれんしゅう

1 A に 50 をかいて！

のメモ

2 A に かいてある数を 声に出して！

のメモ

3 B に  $1 + 5$  を計算したこたえ をかいて！

のメモ

4 B に かいてある数を 声に出して！

のメモ

5 C に

のメモ

A に かいてある数は 10がいくつぶんか をかいて！

のメモ

6 C に かいてある数を 声に出して！

のメモ

7 D に

のメモ

A にかいてある数 たす C にかいてある数

のメモ

のメモ

を計算したこたえ

をかいて！

8 D に かいてある数を 声に出して！

のメモ



ジハンキーへの <sup>しれい</sup>指令 おつりの計算①

1 うけとったお金  をかいて！  
のメモ

2 うけとったお金  にかいてある数を 声に出して！  
のメモ

3 ジュースのお金  をかいて！  
のメモ

4 ジュースのお金  にかいてある数を 声に出して！  
のメモ

5 うけとったお金を10円玉にしたとき  に  
のメモ

にかいてある数は  
のメモ  
10 が いくつぶんか

をかいて！

6 うけとったお金を10円玉にしたとき  にかいてある数を  
のメモ  
声に出して！

つぎのページへ



ジハンキーへの <sup>しれい</sup>指令 おつりの計算②

7 ジュースのお金を10円玉にしたとき のメモ に

ジュースのお金 のメモ にかいてある数は 10が いくつぶんか

を かいて！

8 ジュースのお金を10円玉にしたとき のメモ に かいてある数を  
声に出して！

9 おつりの10円玉の数 のメモ に

うけとったお金を10円玉にしたとき のメモ にかいてある数  
ひく

ジュースのお金を10円玉にしたとき のメモ にかいてある数  
を計算したこたえ

を 声に出して！

10 おつりの10円玉の数 のメモ に かいてある数を声に出して！



# はってん① 計算のしかたを かえてみよう

1 うけとったお金 に 200 をかいて！

のメモ

2 うけとったお金にかいてある数を 声に出して！

のメモ

3 ジュースのお金 に 130 をかいて！

のメモ

4 ジュースのお金にかいてある数を 声に出して！

のメモ

5 おつりの10円玉の数 に

のメモ

おつりの計算をしてから  
10円玉の数を計算するように  
ブロックをならべかえてみよう！

6 おつりの10円玉の数にかいてある数を 声に出して！

のメモ

わからないときは、  
みほんをみてみよう！！





## はってん② 計算のしかたを かえてみよう



こんなふうにもできそう？

のこすお金がジュースのお金と  
同じになるまで  
おつりの10円玉を1まいずつ出す

1 うけとったお金 に 200 をかいて！

のメモ

2 うけとったお金 に かいてある数を 声に出して！

のメモ

3 ジュースのお金 に 130 をかいて！

のメモ

4 ジュースのお金 に かいてある数を 声に出して！

のメモ

「くりかえし」や「へんすう」を  
つかってかんがえてみよう！！

わからないときは、  
みほんをみてみよう！！



